












Lustige Würfelaufgaben Mathematik

<p>Würfele die 6 und du hast den Jokerpunkt</p>					
	<p>Schreibe die Verdopplungsaufgaben auf und rechne sie aus.</p>	<p>Zähle rückwärts von 20.</p>	<p>Halbiere 16</p>	<p>Schreibe die Nachbarzahlen von 8,12,15,19 auf.</p>	<p>Wie heißt die Zwergenaufgabe von $13+6= ?$</p>
	<p>Ben backt 12 Muffins. Seine Schwestern essen 5 Muffins. Wie viele bleiben übrig?</p>	<p>Zeichne ein Dreieck, ein Quadrat und ein Rechteck.</p>	<p>Rechne aus: $12-2=$ $12-3=$ $12-4=$ $12-5=$</p>	<p>Wie heißen die geraden Zahlen?</p>	<p>Dosenwerfen mit 10 Dosen: Wurf 1: 2 Dosen Wurf 2: 3 Dosen Wurf 3: 2 Dosen Wie viele Dosen stehen noch?</p>
	<p>Rechne Plusaufgaben mit 5: $5+1$, $5+2$, $5+3$,...</p>	<p>Schreibe die verliebten Zahlen auf.</p> 	<p>Fünf Piraten entdecken eine Kiste mit 20 Goldstücken. Wie viele Goldstücke bekommt jeder Pirat?</p>	<p>Zähle in 2er Schritten von 2 beginnend.</p>	<p>Springe für jeden in deiner Familie 3 Hampelmänner. Wie oft musstest du springen?</p>
	<p>Zähle in 3er Schritten von 1 beginnend.</p>	<p>Wie heißen die ungeraden Zahlen?</p>	<p>Wie heißt die Zwergenaufgabe von $17-4= ?$</p>	<p>6 Kinder schreiben einen Brief. 7 weitere Kinder schreiben einen Brief. Wie viele Briefe kommen an?</p>	<p>Rechne aus: $10+1=$ $10+2=$ $10+3=$</p>
	<p>Rechne aus: $9+5=$ $9+6=$ $9+7=$</p>	<p>Zähle in 2er Schritten rückwärts von 19.</p>	<p>Schreibe als Strichliste 13, 6, 9, 15. Denke an die 5er Päckchen.</p>	<p>Halbiere 12</p>	<p>14 Mäuse rennen ins Mauselloch. 6 rennen wieder hinaus. Wie viele Mäuse sind im Mauselloch?</p>