

Wohnen

Alle Menschen brauchen eine Wohnung. Es gibt:

- Häuser, in denen mehrere Familien wohnen können
- Hochhäuser
- Einfamilienhäuser
- Altenheime
-
-



Arbeiten

Alle Menschen brauchen eine Arbeitsstelle oder Aufgabe. Es gibt:

- Hausfrauen oder Hausmänner, die sich um die Familie kümmern und sie versorgen
- Handwerkerinnen und Handwerker
- Verkäuferinnen und Verkäufer
-
-



Sich versorgen

Alle Menschen müssen sich versorgen mit:

- Lebensmitteln
- Kleidung
- Hilfe, wenn sie krank sind
-
-



Sich erholen

Alle Menschen müssen sich erholen. Erholen kann man sich

- auf dem Spielplatz
- im Schwimmpfad
- im Park
-



Sich bilden

Alle Menschen müssen lernen. Wo?

- in der Schule
- in der Stadtbücherei
- in der Volkshochschule
-
-



Am Straßenverkehr teilnehmen

Alle Menschen nehmen am Straßenverkehr teil.

- als Fußgänger
- als Autofahrer oder als Beifahrer
- im Bus oder in der Straßenbahn
-
-



Löst die Aufgaben mit Euren Eltern oder älteren Geschwistern!

Aufgabe 1:

Nicht weit von der Schule – auf der Kesselborn-Straße – gibt es eine Bushaltestelle. Geht dorthin und seht euch den Fahrplan genau an!

Welche Buslinien halten hier? Schreibt die Nummern auf!

Wohin kann man mit dem Bus fahren?

Wohin kann man von der anderen Bushaltestelle auf der anderen Straßenseite aus fahren?

Aufgabe 2:

Geht nun weiter zur Borussiastraße. Hier gibt es einen Busbahnhof. Schaut auch hier auf den Fahrplan.

Welche Buslinien halten hier?

Wohin kann man von hier mit dem Bus fahren?

Aufgabe 3:

In Marten gibt es auch eine S-Bahnhaltestelle. Geht zum Bahnhof Marten Süd und dann zum Gleis 1.

Wie heißen die S-Bahnlinien, die an dieser Haltestelle halten?

Wohin fahren die verschiedenen S-Bahnen?

Versucht herauszufinden, was eine Fahrkarte nach Dorstfeld kostet!

Aufgabe 4


Manchmal seid ihr auch mit dem Fahrrad unterwegs.

Findet einen Radweg in der Nähe der Schule.

An der _____-Straße gibt es einen Radweg.

Woran habt ihr den Radweg erkannt? Ihr könnt auch ein Bild dazu zeichnen.

So sieht ein Radweg aus:





Löst die Aufgaben mit Euren Eltern oder älteren Geschwistern!

Aufgabe 1:

Es gibt noch eine weitere Grundschule in Marten, die Steinhammer Grundschule an der Schulte-Heuthaus-Straße. Geht dorthin.

Woran kann man erkennen, dass es eine Grundschule ist?

Tipp: Schaut euch genau die Fenster an!

Aufgabe 2:

In Marten gibt es eine Bücherei. Die Adresse lautet: An der Wasserburg 1. Geht dorthin.

Schreibt die Öffnungszeiten der Bücherei auf!

Überlegt, warum man durch eine Bücherei etwas lernen kann!

Aufgabe 3:

Auch im Museum kann man etwas lernen. Gleich neben der Bücherei ist das das Schulmuseum.

Schaut nach, an welchen Tagen und zu welchen Uhrzeiten man das Museum besuchen kann!

Aufgabe 4:

Geht nun zurück in Richtung Schule. Auf der Lina-Schäferstraße gibt es eine katholische Kirchengemeinde. Sucht einen Schaukasten!

So sieht ein Schaukasten aus:



Was wird für die Menschen angeboten?

Aufgabe 5:

Geht nun in Richtung Schule und dann weiter zum Kesselborn 25. Hier findet ihr den Schaukasten der evangelischen Gemeinde in Marten.

Was wird hier für die Menschen angeboten?



Löst die Aufgaben mit Euren Eltern oder älteren Geschwistern!

Aufgabe 1:

Erholen kann man sich zum Beispiel beim Sport. Erforscht, was es in der Turnhalle der Friedens-Grundschule gibt.

Findet heraus, welcher Verein Sportangebote macht.

Welche Angebote gibt es für Kinder und welche Angebote gibt es für Erwachsene?

Angebote für Kinder:

Angebote für Erwachsene:

Aufgabe 2:

Geht nun zum Kleingärtenverein „Vor'm Hasenberg“ in Marten (Lina-Schäferstraße 90). Viele Menschen erholen sich hier. Lauft ein Stück durch die Kleingartenanlage und schaut euch die Gärten genau an.

Überlegt, wie sich die Menschen hier erholen können.

Wenn ihr einen Gartenbesitzer seht, könnt ihr ihn höflich fragen, was ihm an dem Garten besonders gut gefällt.

Aufgabe 3)

**In der Kleingartenanlage gibt es auch einen Spielplatz. Geht dorthin.
Welche Spielgeräte gibt es auf dem Spielplatz?**

Wie bewertet ihr den Spielplatz? Je mehr Sandburgen ihr ankreuzt, desto besser findet ihr den Spielplatz. Begründet eure Entscheidung auch!



Wir haben _____ Sandburgen vergeben, weil

Aufgabe 4:

Malt euren Traumspielplatz!



Löst die Aufgaben mit Euren Eltern oder älteren Geschwistern!

Aufgabe 1:

Geht die Martener Straße entlang in Richtung Marten bis ihr an der Steinhammerstraße ankommt. Lauft die Martener Straße weiter entlang. Welche Geschäfte entdeckt ihr?

Schreibt einige Dinge auf, die man in den Geschäften auf der Martener Straße kaufen kann.

Aufgabe 2:

Die Menschen, die Marten leben, brauchen auch ärztliche Hilfe, wenn sie einmal krank sind. Einen Arzt findet ihr in der Schulte-Heuthaus-Straße 33.


Wie heißt der Arzt und wann ist seine Praxis geöffnet?

Aufgabe 3:

Oft gibt der Arzt seinen Patienten ein Rezept für Medikamente mit, damit es ihnen bald wieder besser geht. Das Rezept zeigt man in einer Apotheke und bekommt dann das Medikament.

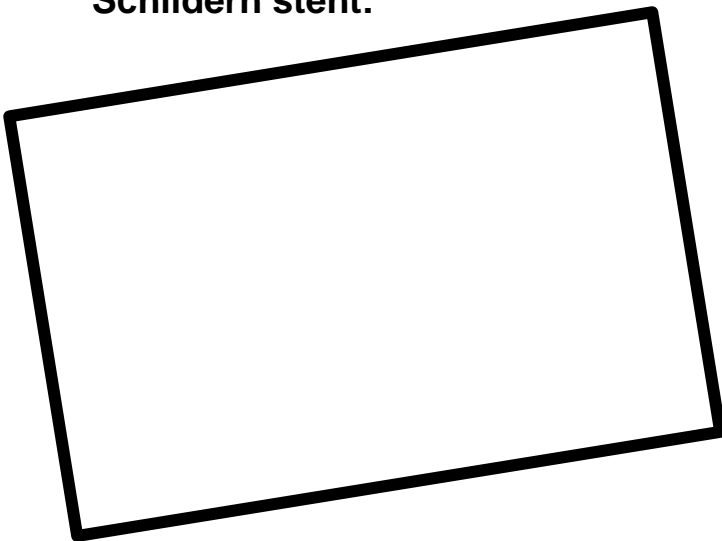
In der Meile 2 findet ihr eine Apotheke. Geht dorthin!

Schreibt den Namen der Apotheke auf.



Aufgabe 5:

Findet ihr noch mehr Arztschilder? Schreibt auf, was auf den Schildern steht:





Löst die Aufgaben mit Euren Eltern oder älteren Geschwistern!

Aufgabe 1:

Geht in die Germaniastraße zum Haus Nummer 17.

Zählt die Klingelknöpfe. Stellt euch vor in jeder Wohnung wohnen drei Menschen. Wieviele Menschen wohnen dann insgesamt im ganzen Haus?

Anzahl der Klingelknöpfe: _____

Insgesamt wohnen dann _____ Menschen in dem Haus.

Aufgabe 2:

Schaut euch weiter um.

Gibt es hier in der Nähe einen Kinderspielplatz oder gibt es andere Möglichkeiten für Kinder draußen zu spielen?

Aufgabe 3:

Geht nun in die Haardtstraße. Hier stehen ganz andere Häuser.

Sucht euch drei Häuser auf der Straße aus und zählt wieder die Klingelknöpfe. Vielleicht könnt ihr ausrechnen, wieviele Menschen hier wohnen.

	Haus 1	Haus 2	Haus 3
Anzahl der Klingelknöpfe			
So viele Menschen wohnen in dem Haus			



Löst die Aufgaben mit Euren Eltern oder älteren Geschwistern!

Aufgabe 1:

In Eurer Umgebung gibt es viele verschiedene Möglichkeiten, um Geld zu verdienen.

Seht euch genau um und überlegt, wie die Menschen in eurer Nachbarschaft Geld verdienen können und was sie bei ihrer Arbeit tun müssen.

Name des Berufs	Was müssen die Menschen bei ihrer Arbeit machen?

Aufgabe 2:

Macht ein kleines Interview mit einer Person, die einen interessanten Beruf hat und stellt ihr ein paar Fragen dazu. Tragt eure Antworten in die Tabelle ein! Fallen euch auch eigene Fragen ein? Schreibt sie in die leeren Spalten!

<p>- Name: _____</p> <p>- Berufsbezeichnung: _____</p>	
Fragen	Antworten
1. Was sind Ihre Aufgaben bei Ihrer Arbeit?	
2. An wie vielen Tagen in der Woche gehen Sie arbeiten?	
3. Wie viele Stunden arbeiten Sie am Tag?	
4. Wie lange arbeiten Sie schon in diesem Beruf?	
5. Was macht Ihnen an Ihrem Beruf besonders viel Spaß?	

Aufgabe 3:

Es gibt Berufe, die häufiger von Männern ausgeübt werden, als von Frauen. Fallen euch welche ein und könnt ihr erklären, warum das so ist?

Genauso gibt es Berufe, die öfter von Frauen ausgeübt werden. Kennt ihr welche und warum ist das wohl so?

Aufgabe 4:

Ihr kennt schon viele verschiedene Berufe. Welche findet ihr besonders interessant? Gibt es einen Beruf, den ihr gerne selber einmal erlernen möchtet? Schreibt eure Ideen auf!
